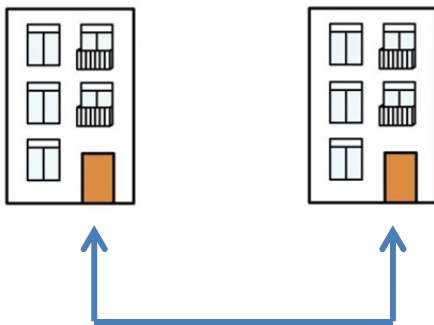


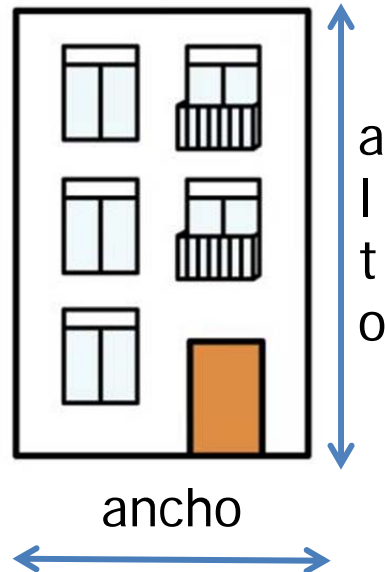
LA LONGITUD¹. Vídeo.

¿Qué es la longitud?

La distancia entre dos puntos



La altura y la anchura



La **unidad** más importante es el **metro**.

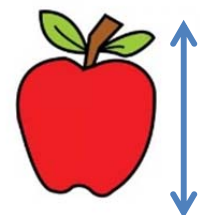
1. ¿Con qué letra se representa el metro?

El metro se representa con la letra ____.

Así:

- *1 metro = 1 ____*
- *100 metros = 100 ____*


Si lo que queremos medir es **más pequeño** que un metro, dividimos 1 metro en partes más pequeñas:



¹ Imágenes de: <http://www.arasaac.org/index.php>

1 METRO		
10 PARTES	100 PARTES	1000 PARTES
10 decímetros	100 centímetros	1000 milímetros
10 dm	100 cm	1000

2. Para medir las unidades pequeñas usamos estos objetos. Escribe su nombre:



3. ¿Cuánto mide?

a) La jirafa mide unos _____ metros (de altura).


b) El elefante mide unos _____ metros (de altura).

c) El edificio en el que vives mide unos _____ metros (de altura).

d) Tú mides ____ m y _____ cm.

e) Tu madre mide ____ m y _____ cm.

f) Tu padre mide ____ m y _____ cm.



Si lo que queremos medir es **más grande** que el metro usamos el **kilómetro**:

$$1000 \text{ metros} = 1 \text{ kilómetro} = 1 \text{ km}$$

4. ¿Cuántos kilómetros hay...

- a) ...de España a Méjico?
- b) ...de tu casa a la playa?
- c) ...de tu casa a Buñol?
- d) ...de tu casa a Madrid?
- e) ...de tu casa a Barcelona?
- f) ...de tu casa a _____?

PARA SABER MÁS:

✓ En Reino Unido, Panamá y Estados Unidos utilizan la yarda y la milla:

1 yarda	1 milla
0, 914 m = 914 cm	1609 m