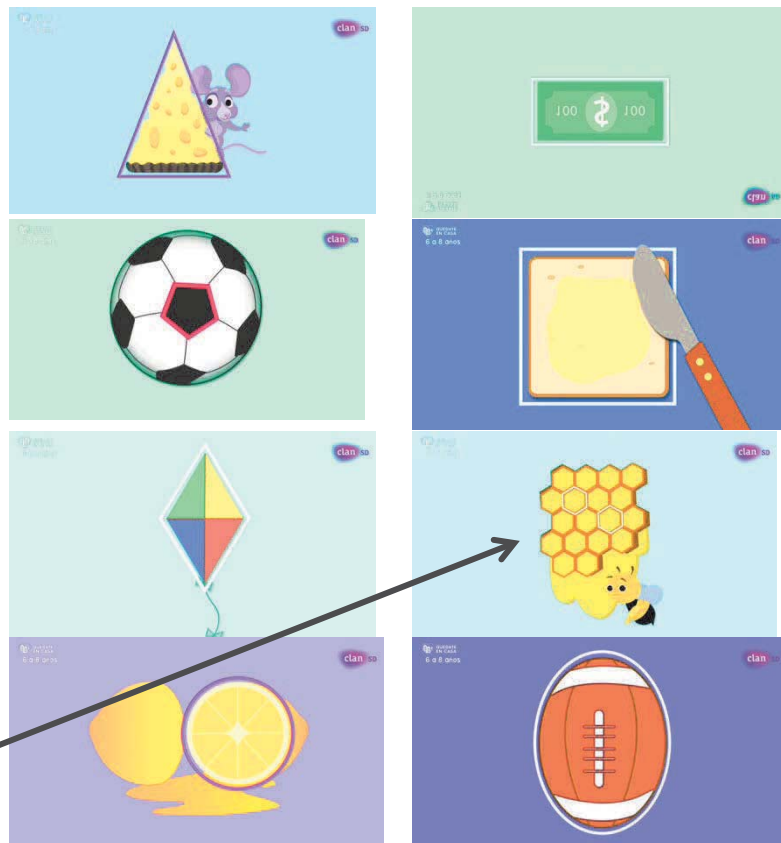


LAS FIGURAS PLANAS Y LAS FORMAS GEOMÉTRICAS

1. Relaciona con flechas las figuras planas con cada una de las imágenes:


- a) Círculo
- b) Óvalo
- c) Triángulo
- d) Cuadrado
- e) Rectángulo
- f) Rombo
- g) Pentágono
- h) Hexágono




2. Elige tres de las formas anteriores y dibújalas:

--	--	--


3. Otras formas geométricas son: estrella, corazón, cruz y luna. Escribe en minúscula el nombre debajo de cada una:



E _____



C _____





4. Busca en casa diez objetos que tengan las formas estudiadas.